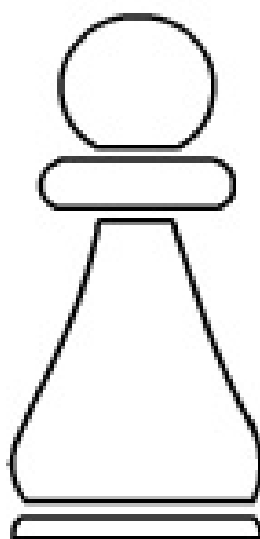


Пешка

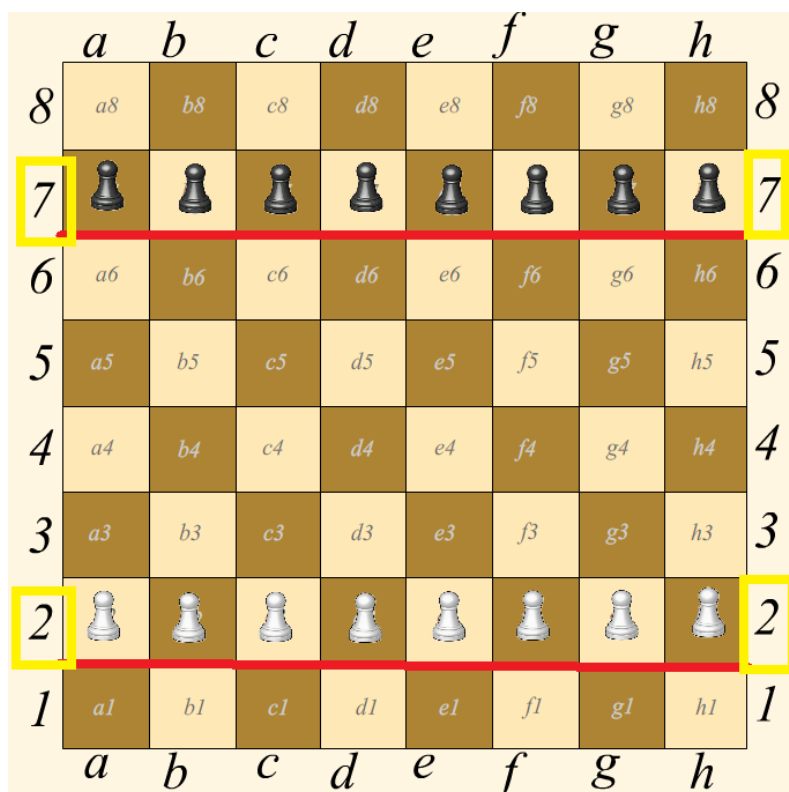
Здравствуйтесь! Сегодня мы с вами заглянем в «Шахматное королевство».

Сегодня мы познакомимся с одной фигурой, не простой, а с шахматным солдатом. Как вы думаете, какая эта фигура?

На самом деле то пешка. Пешка самая слабая фигура, но играя в шахматы соперники берегут каждую пешку!



Всего на шахматной доске в начальном положении по 8 пешек. 8 белые, 8 черные. Белые пешки располагаются на второй горизонтали, черные – на предпоследней (седьмой горизонтали).



У каждой пешки есть названия. Как вы думаете какие?

+ На одной вертикали с ладьями стоят ладейные пешки

+ с конями – коневые пешки,

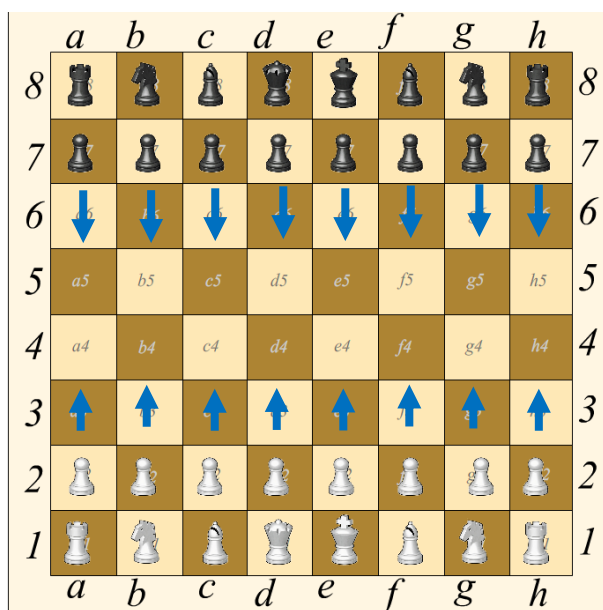
+ со слонами – слоновые пешки,

+ с ферзями – ферзевые пешки,

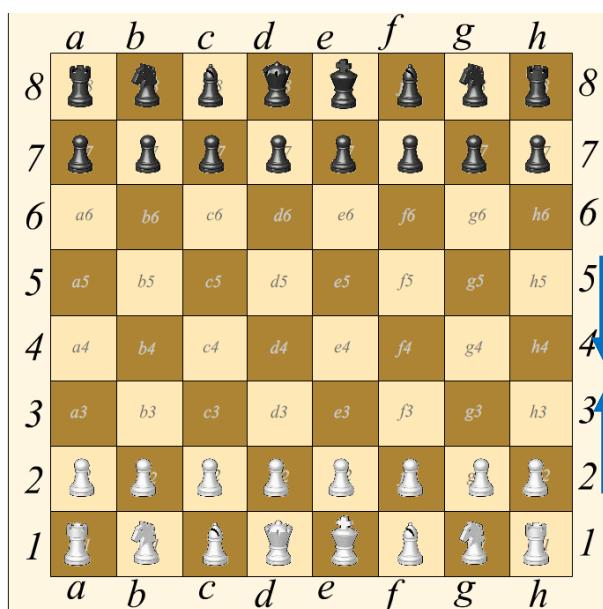
+ с королями – королевские пешки



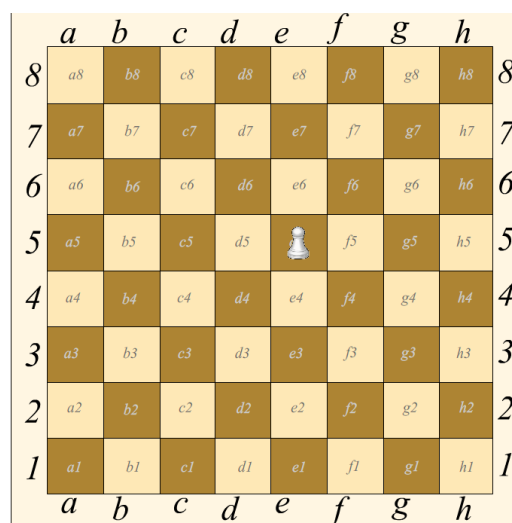
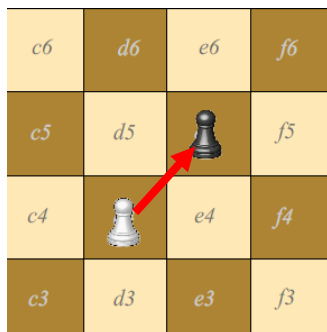
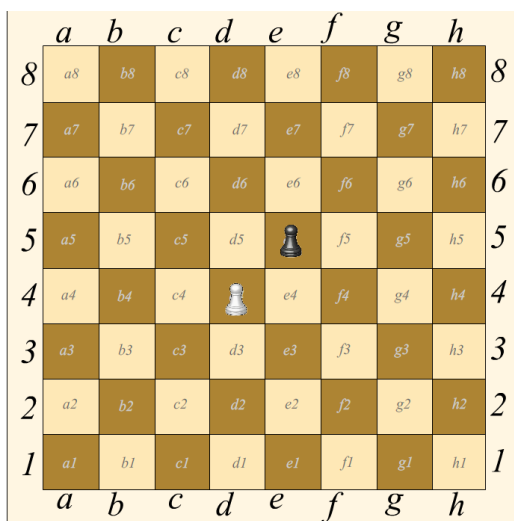
Пешки ходят только вперед по вертикали. За один ход пешка передвигается только на одно соседнее поле вперед по вертикали.



Только один раз в партии пешка имеет право прыгнуть через клетку – из начального положения.



А вот бьет пешка не по вертикали вперед, а по диагонали на одно поле и занимает место взятой фигуры.



Посмотрите какие пешки храбрые, как солдаты пехотинцы. Они первые вступают в бой, прорываются до последней линии и тогда наступает счастливое перевоплощение.

Пешка имеет право превратиться в любую фигуру, кроме короля! Двух королей одного цвета в одном королевстве не бывает.



Может превратится в





Пешек нужно ценить, беречь и не отдавать без нужды противнику!

Шахматные фигуры приготовили вопросы, хотят проверить что нового вы сегодня узнали.

1. Может ли пешка стать когда-нибудь фигурой, превратиться в неё, в каких случаях? (Да, если белая пешка достигнет 8-й, а чёрная 1-й горизонтали.)
2. Может ли пешка попасть на белое поле? На черное поле?
3. Ходит ли пешка с белого поля на черное, с черного на белое?
4. Ходит ли пешка по горизонтали?
5. Ходит ли пешка по вертикали?
6. Бьет ли пешка по вертикали, по горизонтали?
7. Бьет ли пешка по диагонали?
8. Может ли белая пешка побить белого коня?
9. Превращается ли пешка в короля?
10. Как ходит пешка? (только вперед)
11. Как бьёт пешка? (наискосок)

Задачи для закрепления:

1. Рассеянный художник хотел отметить крестиками поля, на которые может пойти за один ход каждая из белых пешек, но забыл. Выручай! Отметь крестиком все поля, куда могут сходить белые пешки за один ход.



2. Помоги найти рассеянному художнику незащищенную черную фигуру, которую могут срубить белые фигуры. Зачеркни эту фигуру крестиком.